




Ime i prezime

Datum

Provjera posebnih sposobnosti Teorija glazbe

1. Imenuj note.



/10

2.a Napiši c-mol harmonijsku ljestvicu
i označi razmake između svih tonova.



/4

/4

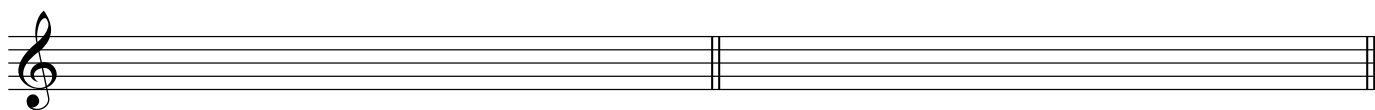
2.b Napiši frigijski modus na tonu f1
i označi razmake između svih tonova.



/4

/4

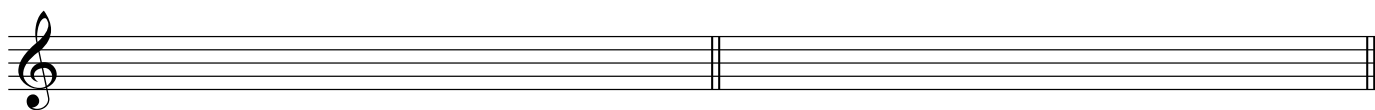
2.c Napiši es-mol prirodnu ljestvicu
i označi razmake između svih tonova.



/4

/4

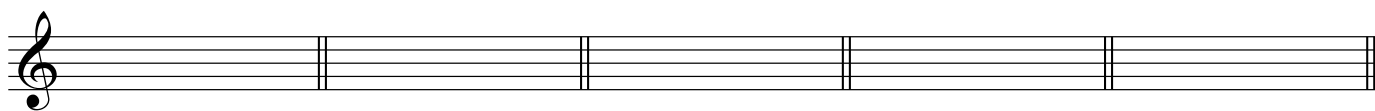
2.d Napiši miksolidijski modus na tonu e1
i označi razmake između svih tonova.



/4

/4

3. Napiši predznake za zadane ljestvice.



As-dur

cis-mol

H-dur

e-mol

Ges-dur

/5

4. Imenuj ili napiši zadani interval.

V.7↑ M.7↓ Č.5↑ M.2↓ V.6↑

/10

5. Napiši zadani kvintakord i zatim mu odredi mnogostranost u durskim i molskim (harmonijskim) ljestvicama.

D₃⁵ M₃⁵ S₃⁵ P₃⁵

| | | | | |
|---------------|--|--|--|--|
| Dur | | | | |
| Mol (har.) | | | | |

/24

6. Imenuj ili napiši (uzlazno) zadani trozvuk.

P₄⁶ D₃⁵ S₃⁶

/6

7. Imenuj ili napiši (uzlazno) zadani četverozvuk.

VM⁷ MS⁷ MD²

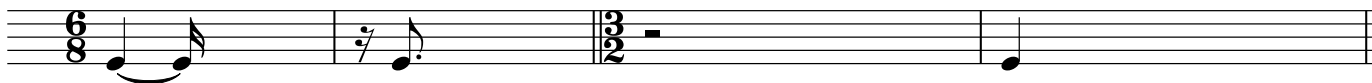
/6

8. Napiši zadani četverozvuk u zadanoj ljestvici.

f (har.): V² H: II⁵ e (mel.): III⁴ As: VII⁷ g (prir): IV⁶

/10

9. Dopuni taktove notama ili pauzama.



/8

10. Dopuni pojmove

Moderato je oznaka za _____ a znači _____

Accelerando je oznaka za _____ a znači _____

Subito piano je oznaka za _____ a znači _____

Cantabile je oznaka za _____ a znači _____

Crescendo je oznaka za _____ a znači _____

/10

UKUPNO BODOVA: / 105